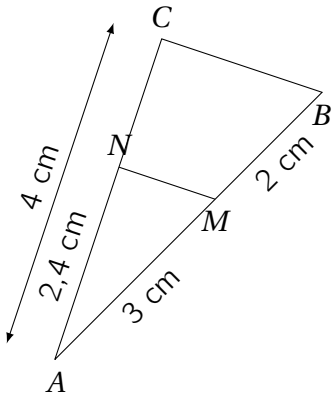



**Objectifs :**

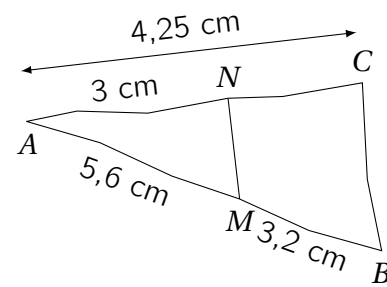
- ❑ Montrer que deux droites ne sont pas parallèles utilisant le théorème de Thalès (sa contraposée)
- ❑ Montrer que deux droites sont parallèles en utilisant la pseudo-réciproque du théorème de Thalès.

**Exemple n° 1.** Les droites  $(MN)$  et  $(BC)$  sont-elles parallèles ?

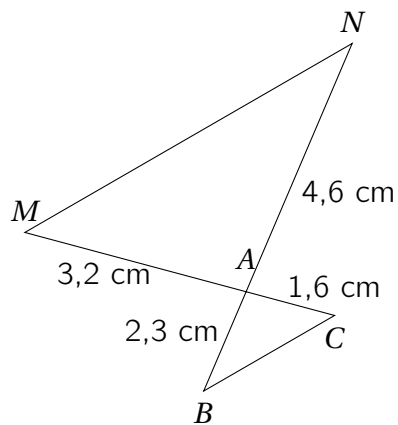
a)



c)



b)



d)

